

TEST č. 5 Označ všechny správné odpovědi na zadané otázky

1. Otáčet a couvat řidič nesmí

- A) v tunelu a jeho těsné blízkosti
 - B) na křižovatce s řízeným provozem a její těsné blízkosti
 - C) v blízkosti podchodu
-

2. „Snížená viditelnost“

- A) je situace, kdy účastníci silničního provozu dostatečně zřetelně nerozeznají jiná vozidla, osoby, zvířata nebo předměty na pozemní komunikaci,
 - B) je pouze za tmy nebo za šera
 - C) nastává jenom v době, kdy se stmívá nebo je mlha
-

3. V cyklistické zóně

- A) cyklisté nesmějí jezdit vedle sebe
 - B) smějí cyklisté užívat vozovku v celé její šířce
 - C) musí jet cyklisté vždy jen středem této zóny
-

4. Řidič je při jízdě povinen

- A) věnovat se plně řízení jen při jízdě křižovatkou
 - B) věnovat se plně řízení vozidla
 - C) věnovat se plně jízdě na zvířeti
-

5. Při objíždění překážky

- A) řidič nesmí ohrozit ani omezit protijedoucí řidiče
 - B) řidič může omezit protijedoucího cyklistu
 - C) řidič nesmí ohrozit ostatní účastníky silničního provozu
-

6. Za hustého deště

- A) musí cyklista pokračovat v jízdě
 - B) nesmí cyklista snížit rychlost
 - C) je vhodné jízdu přerušit
-

7. Jízdní kolo musí být vybaveno

- A) jednou odrazkou bílé barvy na straně šlapátek - pedálů
- B) odrazkami červené barvy na jedné straně šlapátek - pedálů
- C) odrazkami oranžové barvy (autožlut') na obou stranách šlapátek - pedálů

8. Tento pokyn policisty znamená

- A) „Stůj!“ pro řidiče přijíždějící k jeho čelu
- B) „Stůj!“ pro řidiče přijíždějící k jeho zadům
- C) „Pozor!“ pro všechny řidiče

**9. Cyklista je připraven k jízdě**

- A) ano
- B) ne
- C) nevím

**10. Dopravní značka**

- A) vyznačuje způsob řazení do jízdnic pruhů před křižovatkou
- B) upozorňuje na křižovátku nerozlišenou dopravními značkami
- C) stanoví přednost v jízdě křižovatkou

**11. Dopravní značka upozorňuje**

- A) na místo, kde se děti často pohybují nebo shromažďují
- B) na místo, kde děti často přecházejí vozovku
- C) na místo, kde hrozí nebezpečí nenadálého vběhnutí dětí

**12. Řidič zastavuje vozidlo**

- A) 5 metrů před touto značkou
- B) těsně před touto značkou
- C) tam, kde má náležitý rozhled do křižovatkou

**13. Která dodatková tabulka označuje konec úseku platnosti dopravní značky?**

A



B



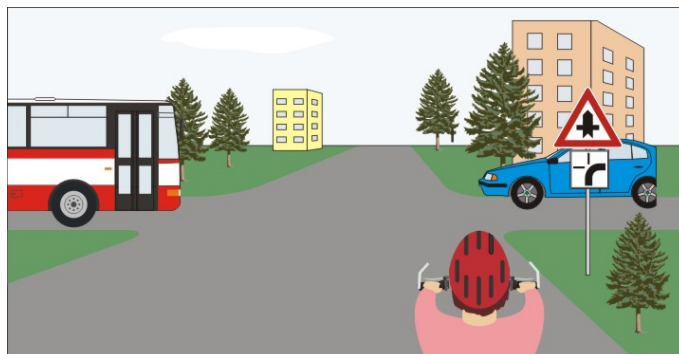
C

14. Rozsvícený světelný signál znamená

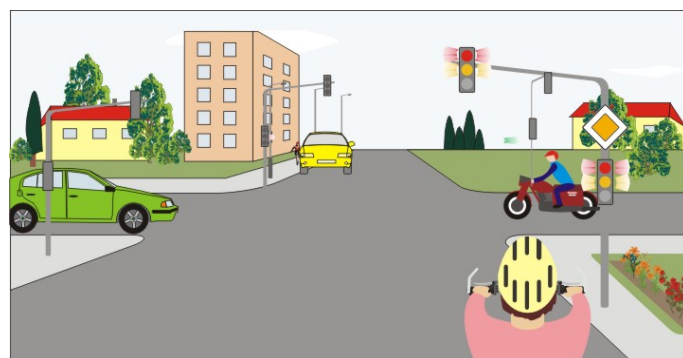
- A) povinnost řidiče zastavit vozidlo před signalizačním zařízením
 B) povinnost řidiče zastavit ve vzdálenosti 10 m před signalizačním zařízením
 C) povinnost řidiče zastavit za signalizačním zařízením

**15. Cyklista**


- A) projede křižovatkou jako druhý
 B) dává přednost modrému vozidlu
 C) má přednost před autobusem

**16. Cyklista:**

- A) se připraví k jízdě
 B) zastaví vozidlo
 C) má přednost v jízdě, protože přijíždí po hlavní silnici

**17. Na této křižovatce:**

- A) má modré vozidlo přednost před oběma cyklisty
 B) dává modré vozidlo přednost protijedoucímu cyklistovi
 C) není přednost v jízdě upravena dopravními značkami

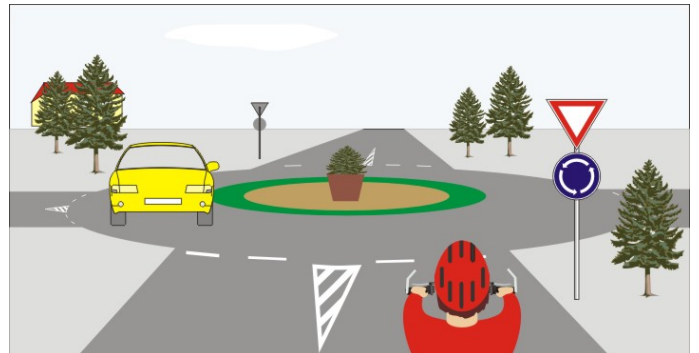


18. Cyklista:

- A) má přednost před červeným osobním vozidlem
- B) dává přednost autobusu
- C) projede křižovatkou jako první

**19. Žluté vozidlo:**

- A) musí dát přednost v jízdě cyklistovi
- B) bude vyjíždět z kruhového objezdu
- C) má přednost v jízdě před cyklistou

**20. Jako první projede křižovatkou:**

- A) zelené vozidlo
- B) cyklista
- C) žluté vozidlo

