

TEST č. 4 Označ všechny správné odpovědi na zadané otázky

1. Před odbočováním vpravo se musí řidič zařadit

- A) co nejdále od pravého okraje vozovky
 - B) ke středu vozovky
 - C) co nejbližší k pravému okraji vozovky
-

2. „Chodec“

- A) je i osoba, která vede jízdní kolo
 - B) je i osoba, která vede motocykl o objemu válců do 50 cm³
 - C) je i osoba, která vede psa
-

3. Řidič nesmí

- A) ohrozit nebo omezit chodce, který přechází pozemní komunikaci po přechodu pro chodce
 - B) ohrozit nebo omezit chodce, který zjevně hodlá přecházet po přechodu pro chodce
 - C) ohrozit chodce, který se blíží k přechodu pro chodce
-

4. Vyznačený jízdní pruh pro cyklisty

- A) je cyklista povinen užít
 - B) nemusí cyklista vždy užít
 - C) je cyklista povinen užít jen při jízdě v obci
-

5. Při vjíždění na kruhový objezd

- A) řidič dává znamení o změně směru jízdy
 - B) řidič nedává znamení o změně směru jízdy
 - C) řidič v obci dává znamení o změně směru jízdy
-

6. Při jízdě vedle zaparkovaných aut

- A) musí cyklista jet co nejbližší
 - B) cyklista dodržuje bezpečný boční odstup
 - C) cyklista dbá zvýšené opatrnosti
-

7. Pro jízdu za snížené viditelnosti musí být jízdní kolo vybaveno

- A) zadní svítilnou vyzařující světlo červené barvy
- B) zadní svítilnou vyzařující světlo oranžové barvy
- C) světlometem svítícím dozadu bílým světlem

8. Tento pokyn policisty znamená

- A) „Zpomalit jízdu!“
- B) „Zrychlit jízdu!“
- C) „Stůj!“

**9. Cyklista má na přejezdu pro cyklisty přednost v jízdě**

- A) ne
- B) nevím
- C) ano

**10. Dopravní značka označuje**


- A) zákaz odbočení vpravo
- B) tvar křižovatky
- C) návěst před slepou pozemní komunikací

**11. Dopravní značka**

- A) zakazuje vjezd jízdních kol
- B) označuje jízdní pruh pro cyklisty
- C) povoluje vedení jízdního kola

**12. Dodatková tabulka**

- A) vyznačuje skutečný tvar křižovatky
- B) vyznačuje napojení účelových komunikací
- C) upřesňuje, která pozemní komunikace je hlavní a která vedlejší

**13. Která opravní značka označuje cyklistickou trasu?**

A



B



C



14. Rozsvícená šipka v protilehlém rohu křižovatky znamená

- A) že řidič nesmí odbočit vlevo
- B) že řidič smí odbočit vlevo a nedává přednost protijedoucím
- C) že řidič musí dát přednost protijedoucím motorovým vozidlům

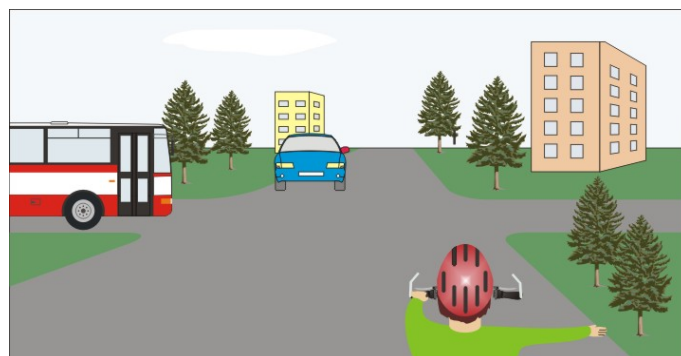
15. Cyklista:

- A) dává přednost žlutému vozidlu
- B) a modré vozidlo projedou současně
- C) a modré vozidlo se vyhýbají vlevo



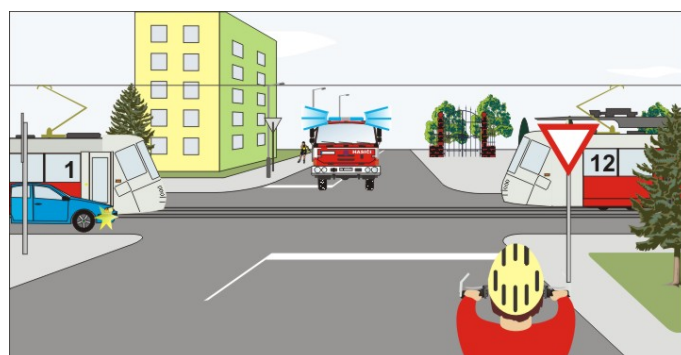
16. Cyklista projede křižovatkou:

- A) jako první
- B) jako první současně s modrým vozidlem
- C) jako třetí




17. Vozidla projedou křižovatkou:

- A) 1. tramvaje současně s modrým vozidlem, 2. hasiči současně s cyklistou
- B) 1. hasiči, 2. tramvaje současně s modrým vozidlem, 3. cyklista
- C) 1. cyklista současně s modrým vozidlem, 2. tramvaje, 3. hasiči



18. Cyklista z výhledu:

- A) projede křižovatkou jako první
- B) dává přednost cyklistovi přijíždějícímu zprava
- C) projede křižovatkou jako druhý

**19. Cyklista projede křižovatkou**

- A) jako první a dá přednost chodcům na přechodu pro chodce
- B) jako druhý
- C) jako první, ale nemusí dát přednost chodcům na přechodu pro chodce

**20. Cyklista:**

- A) nesmí vjet do křižovatky
- B) projede křižovatkou jako první
- C) projede křižovatkou jako druhý

