

TEST č. 3 Označ všechny správné odpovědi na zadané otázky

1. Pokud cyklista vede jízdní kolo

- A) smí užít chodníku, jen neohrozí-li ostatní chodce
 - B) nesmí v žádném případě užít chodník
 - C) za snížené viditelnosti nesmí užít chodník
-

2. Řidič nesmí otáčet a couvat

- A) na přechodu pro chodce
 - B) na železničním přejezdu a v jeho těsné blízkosti
 - C) na přejezdu pro cyklisty
-

3. Na pozemní komunikaci se na jízdním kole jezdí

- A) v celé šířce vozovky
 - B) při pravém okraji vozovky
 - C) pouze po levé krajnici
-

4. Řidič přijíždějící na křižovatku po vedlejší pozemní komunikaci

- A) musí vždy zastavit vozidlo
 - B) musí dát přednost v jízdě vozidlům nebo jezdcům na zviratech přijíždějícím po hlavní pozemní komunikaci
 - C) musí dát přednost organizované skupině chodců přicházejícím po hlavní pozemní komunikaci
-

5. Vést za jízdy ruční vozík

- A) smí cyklista jen při jízdě mimo obec
 - B) smí jen cyklista starší 18 let
 - C) cyklista nesmí
-

6. Mezi zásady bezpečné jízdy patří

- A) ohleduplnost
 - B) nepozornost
 - C) předvídavost
-

7. Zadní odrazka červené barvy

- A) může být kombinována se zadní svítilnou vyzařující světlo červené barvy
- B) nesmí být kombinována se zadní svítilnou vyzařující světlo červené barvy
- C) může být kombinována se zadní odrazkou bílé barvy

8. Tento pokyn policisty znamená

- A) „Zpomalit jízdu!“
- B) „Volno“ pro řidiče přijíždějící k jeho boku
- C) „Pozor!“ pro všechny řidiče

**9. Vodorovná dopravní značka vyznačuje vyhrazený jízdní pruh pro cyklisty**

- A) ne
- B) ano
- C) nevím

**10. Dopravní značka znamená**

- A) hlavní pozemní komunikaci
- B) Stůj, dej přednost v jízdě!
- C) Dej přednost v jízdě!

**11. V této zóně**

- A) musí cyklisté umožnit motorovým vozidlům jízdu
- B) smějí cyklisté užívat vozovku v celé její šířce
- C) se nesmí jezdit na koloběžce

**12. Tato dopravní značka upozorňuje**

- A) na nebezpečné klesání
- B) na velké stoupání
- C) na příčný sklon vozovky

**13. Která dopravní značka vyjadřuje zákaz stání?**

A



B



C

14. Takto rozsvícený světelný signál znamená

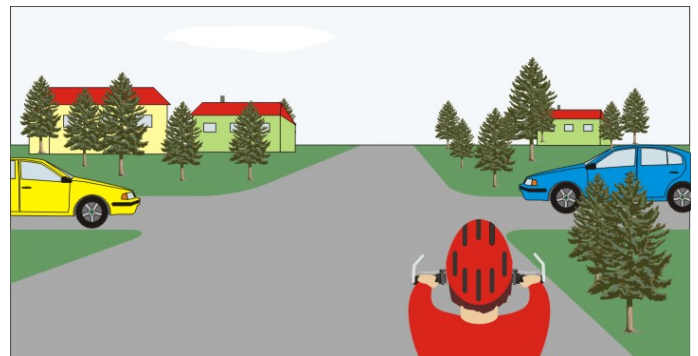
- A) připravit se k jízdě
- B) „Volno“ pro směr přímo nebo vpravo
- C) „Volno“ pro směr vlevo

**15. Cyklista na této křižovatce**


- A) projede jako druhý
- B) projede jako první
- C) dává přednost modrému vozidlu

**16. Jako třetí projede křižovatkou:**

- A) žluté vozidlo
- B) modré vozidlo
- C) cyklista


**17. Cyklista**

- A) a zelené vozidlo mohou projet současně
- B) dává přednost tramvaji
- C) má přednost před tramvají

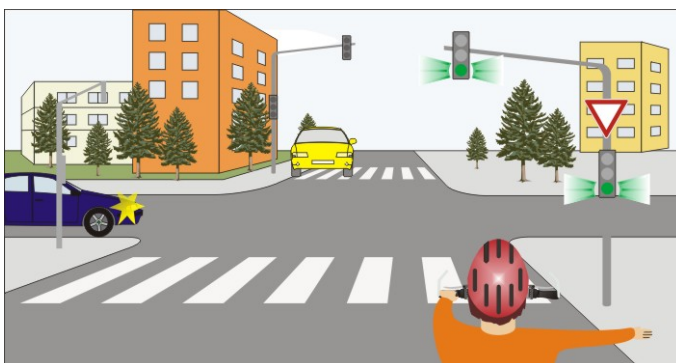


18. cyklista:

- A) projede současně se žlutým vozidlem
- B) přijíždí po hlavní pozemní komunikaci
- C) má přednost před modrým vozidlem

**19. Při takto rozsvíceném signálu**

- A) smí cyklista odbočit vpravo
- B) cyklista musí dát přednost modrému vozidlu
- C) nesmí cyklista vjíždět do křižovatky

**20. Cyklista:**

- A) může vjet na kruhový objezd, pokud dá znamení upažením
- B) dá přednost v jízdě autobusu
- C) má přednost v jízdě před autobusem

