

TEST č. 25 Označ všechny správné odpovědi na zadané otázky

1. „Řidič“ je

- A) i osoba vedoucí jízdní kolo
 - B) také jezdec na zvířeti
 - C) vozka
-

2. Na jízdním kole se jezdí

- A) při pravém okraji vozovky
 - B) při pravém nebo levém okraji vozovky
 - C) po pravé krajnici, nejsou-li tím ohrožováni ani omezováni chodci
-

3. Vjíždět na železniční přejezd řidič nesmí

- A) za tmy nebo hustého deště
 - B) je-li dávana výstraha dvěma červenými střídavě přerušovanými světly signálu přejezdového zabezpečovacího zařízení
 - C) nejméně 5 minut před příjezdem vlaku
-

4. Řidič nesmí ohrozit chodce

- A) přecházejícího pozemní komunikaci, na kterou řidič odbočuje
 - B) při odbočování na místo ležící mimo pozemní komunikaci
 - C) při otáčení nebo couvání
-

5. Znamení o změně směru jízdy řidič dává

- A) při změně směru jízdy
 - B) při vybočování ze směru jízdy
 - C) jestliže to vyžaduje bezpečnost provozu na pozemních komunikacích
-

6. K zásadám bezpečné jízdy nepatří

- A) jízda podle pravidel silničního provozu
 - B) rychlá a agresivní jízda
 - C) klidná a předvídatelná jízda
-

7. Jízdní kolo musí být vybaveno

- A) přední odrazkou bílé barvy
- B) přední i zadní odrazkou oranžové barvy
- C) přední odrazkou červené barvy

8. Tento pokyn policisty pro řidiče znamená

- A) „Zpomalit jízdu!“
- B) „Zrychlit jízdu!“
- C) „Stůj!“

**9. Takto označené místo se považuje za křižovatku**

- A) ano
- B) ne
- C) nevím

**10. Dopravní značka znamená**

- A) zákaz vjezdu jízdních kol
- B) jízdní pruh pro cyklisty
- C) stezka pro cyklisty

**11. Dopravní značka**

- A) informuje o snížení jízdních pruhů
- B) vyznačuje počet a uspořádání jízdních pruhů
- C) označuje nebezpečnou krajnici

**12. Dopravní značka**

- A) označuje kilometrovník
- B) vyjadřuje nejvyšší povolenou rychlost pro cyklisty
- C) informuje o čísle (popřípadě jiném označení) cyklistické trasy a označuje její průběh

**13. Která dopravní značka znamená „Dej přednost v jízdě!“?**

A




B



C

14. Rozsvícený světelný signál znamená


- A) připravit se k jízdě pro směr vlevo
- B) připravit se k jízdě pro jízdu přímo nebo vpravo
- C) připravit se k zastavení vozidla

**15. Cyklista:**

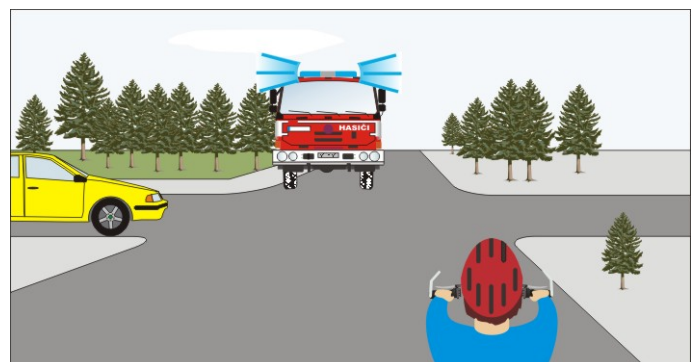
- A) přijíždí po hlavní pozemní komunikaci
- B) projede křižovatkou jako třetí
- C) projede křižovatkou jako první současně s autobusem

**16. Na této křižovatce:**

- A) má přednost v jízdě cyklista
- B) má přednost v jízdě tramvaj
- C) není přednost v jízdě upravena


**17. Jako první projede křižovatkou:**

- A) cyklista
- B) žluté vozidlo
- C) vozidlo hasičů



18. Vozidla projedou v pořadí:

- A) 1. modré současně s cyklistou, 2. žluté
- B) 1. žluté, 2. cyklista, 3. modré
- C) 1. cyklista, 2. modré, 3. žluté

**19. Cyklista:**

- A) smí vjet na kruhový objezd
- B) dává přednost červenému vozidlu
- C) nedává znamení upažením

**20. Tento světelný signál:**

- A) znamená „Volno“ pro cyklistu
- B) znamená „Stůj!“ pro cyklistu
- C) znamená „Pozor!“ pro všechny řidiče

