

TEST č. 21 Označ všechny správné odpovědi na zadané otázky

1. Při objíždění

- A) řidič nesmí ohrozit ani omezit protijedoucí řidiče
 - B) řidič nedává znamení o změně směru jízdy
 - C) řidič nesmí ohrozit ostatní účastníky silničního provozu
-

2. Cyklista

- A) nesmí vést za jízdy druhé jízdní kolo
 - B) může jet bez držení řídítek
 - C) nesmí vést za jízdy psa nebo jiné zvíře
-

3. Znamení o změně směru jízdy

- A) cyklista dává jen v nutných případech
 - B) cyklista dává vždy při změně směru jízdy
 - C) cyklista dává upažením
-

4. „Chodec“

- A) je i osoba vedoucí jízdní kolo
 - B) je i osoba pohybující se na kolečkových bruslích
 - C) je i osoba jedoucí na jízdním kole
-

5. V obci na pozemní komunikaci o dvou nebo více jízdních pružích

- A) smí cyklista užít levý krajní jízdní pruh bez omezení
 - B) smí cyklista levý krajní jízdní pruh užít k jízdě, jen jestliže je to nutné k objíždění
 - C) smí cyklista levý krajní jízdní pruh užít k jízdě, jen jestliže je to nutné k odbočování
-

6. Mezi zásady bezpečné jízdy patří

- A) jízda podle pravidel silničního provozu
 - B) rychlá a bezohledná jízda
 - C) jízda na nedostatečně vybaveném jízdním kole
-

7. Jízdní kolo musí být vybaveno

- A) dvěma na sobě nezávislými účinnými brzdami
- B) alespoň jednou brzdou
- C) třemi a více účinnými brzdami



8. Pro řidiče přijíždějící k čelu a zádům policisty

- A) znamená tento pokyn „Volno“
- B) znamená tento pokyn „Stůj!“
- C) znamená tento pokyn „Pozor!“

9. Osoba vedoucí jízdní kolo jde po správné straně vozovky

- A) ano
- B) ne
- C) nevím



10. Tato dopravní značka

- A) přikazuje směr další jízdy
- B) upozorňuje na nebezpečné stoupání
- C) upozorňuje na zatáčku (směrový oblouk) vpravo



11. Dopravní značka

- A) označuje stezku pro chodce
- B) vyjadřuje zákaz vstupu chodců
- C) upozorňuje na přechod pro chodce



12. Dopravní značka označuje

- A) jeskyni
- B) pevnou překážku na vozovce
- C) tunel



13. Která dopravní značka označuje jednosměrný provoz?



A



B



C

14. Signál s rozsvíceným žlutým světlem znamená

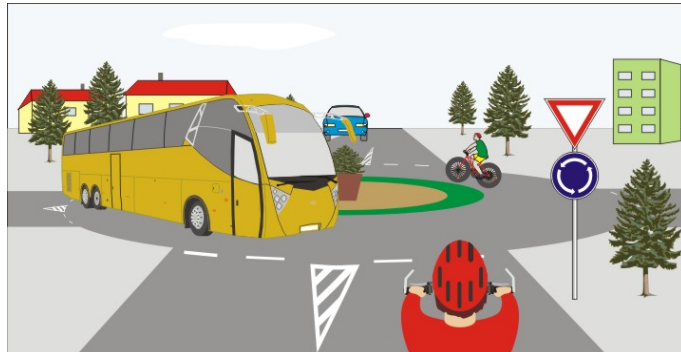
- A) „Stůj!“
- B) připravit se k jízdě
- C) povinnost zastavit vozidlo; pokud by řidič nemohl vozidlo bezpečně zastavit, smí pokračovat v jízdě

**15. Na této křižovatce:**

- A) dávají oba cyklisté přednost zelenému vozidlu
- B) cyklista z výhledu dává přednost cyklistovi na hlavní silnici
- C) cyklista z výhledu projede křižovatkou jako třetí

**16. Cyklista z výhledu:**

- A) dává přednost autobusu
- B) má přednost před autobusem
- C) musí dát znamení o změně směru jízdy

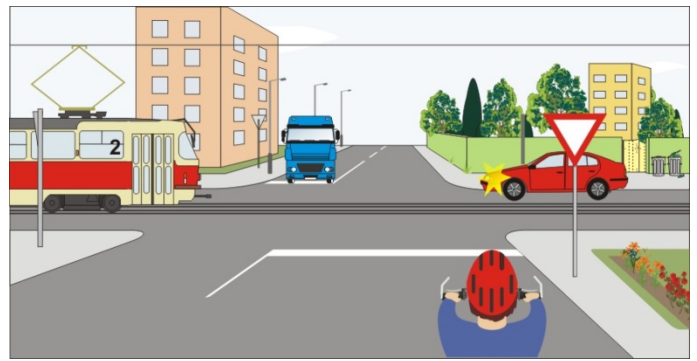
**17. Cyklista:**

- A) projede křižovatkou jako druhý
- B) dává přednost červenému osobnímu vozidlu
- C) má přednost před červeným osobním vozidlem

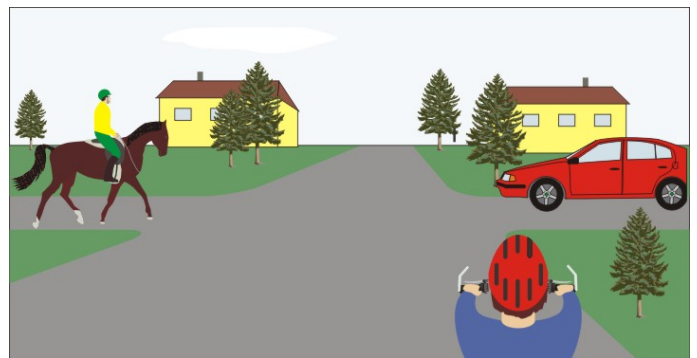


18. Cyklista:

- A) dává přednost v jízdě modrému vozidlu
- B) dává přednost v jízdě tramvaji a červenému vozidlu
- C) projede křižovatkou jako třetí současně s modrým nákladním vozidlem

**19. Na této křižovatce:**

- A) projede jako první cyklista
- B) projede jako první červené vozidlo
- C) projede jako poslední jezdec na zvířeti

**20. Pokyn policisty znamená:**

- A) „Volno“ pro cyklistu
- B) „Stůj!“ pro žluté vozidlo
- C) „Pozor!“ pro všechny řidiče

