

TEST č. 19 Označ všechny správné odpovědi na zadané otázky

1. Cyklista mladší 10 let smí na pozemní komunikaci na jízdním kole jet

- A) samostatně
 - B) pouze pod dohledem osoby starší 15 let
 - C) pouze pod dohledem osoby starší 18 let
-

2. „Zastavit“ znamená

- A) uvést vozidlo do klidu na dobu kratší než 3 minuty
 - B) uvést vozidlo do klidu na dobu nezbytně nutnou k neprodlenému nastoupení nebo vystoupení přepravovaných osob
 - C) uvést vozidlo do klidu na dobu nezbytně nutnou k neprodlenému naložení nebo složení nákladu
-

3. Řidič nesmí

- A) ohrozit nebo omezit chodce, který přechází pozemní komunikaci po přechodu pro chodce
 - B) ohrozit chodce, který možná bude chtít přecházet po přechodu pro chodce
 - C) ohrozit chodce, který zjevně hodlá přecházet pozemní komunikaci po přechodu pro chodce
-

4. Před odbočením vpravo se řidič musí zařadit

- A) co nejbližší ke středu vozovky
 - B) co nejbližší k pravému okraji vozovky
 - C) co nejdál od pravého okraje vozovky
-

5. Za jízdy se cyklista

- A) nesmí držet jiného vozidla
 - B) může držet jiného vozidla, pokud mu to dovolí řidič tohoto vozidla
 - C) může držet jiného vozidla jen při jízdě do kopce
-

6. Osvětlení jízdního kola

- A) zapínáme až po setmění
 - B) zapínáme vždy za snížené viditelnosti
 - C) zapínáme pouze za deště
-

7. Pro jízdu za snížené viditelnosti musí být jízdní kolo vybaveno

- A) zadní svítilnou vyzařující světlo červené barvy
- B) zadní svítilnou vyzařující světlo modré barvy
- C) světlometem svítícím dopředu bílým světlem



8. Tento pokyn policisty znamená „Volno“ pro řidiče

- A) přijíždějící směrem k pravému boku policisty
- B) přijíždějící k čelu policisty
- C) přijíždějící směrem k levému boku policisty

9. V tomto místě mají cyklisté zakázáno přejíždět vozovku

- A) ano
- B) ne
- C) nevím



10. Tato dopravní značka upozorňuje

- A) mimo obec na křižovatku a označuje hlavní pozemní komunikaci
- B) v obci na řízenou křižovatku
- C) na křižovatku, kde mají přednost vozidla přijíždějící zprava



11. Dopravní značka znamená

- A) silnici pro motorová i nemotorová vozidla
- B) zákaz vjezdu vyznačených vozidel
- C) zákaz stání pro vyznačená vozidla



12. Dopravní značka vyznačuje

- A) plochu pro zastavení
- B) místo pro cyklisty
- C) plochu, na kterou je zakázáno vjíždět



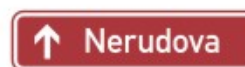
13. Která dopravní značka označuje cyklistickou trasu?




A



B



C

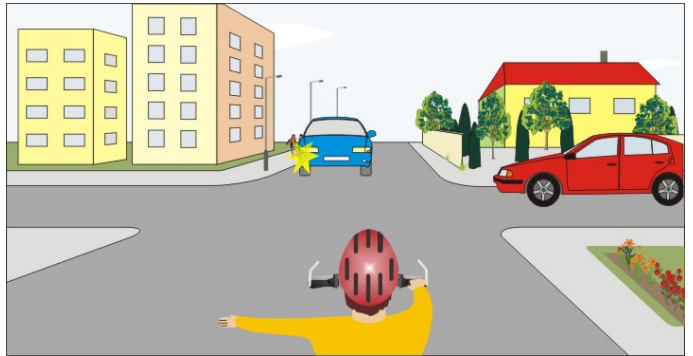


14. Rozsvícené zelené světlo na světelném signálu znamená

- A) připravit se k jízdě
- B) „Volno“
- C) „Pozor!“

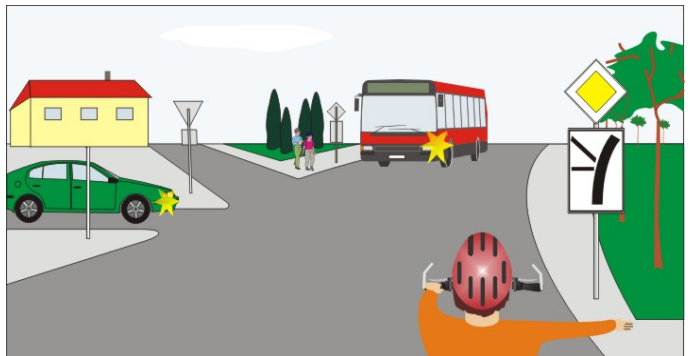
15. Cyklista:

- A) má přednost před červeným vozidlem
- B) dává přednost červenému vozidlu
- C) projede křižovatkou jako třetí




16. Zelené vozidlo projede křižovatkou:

- A) jako poslední
- B) současně s autobusem
- C) jako první



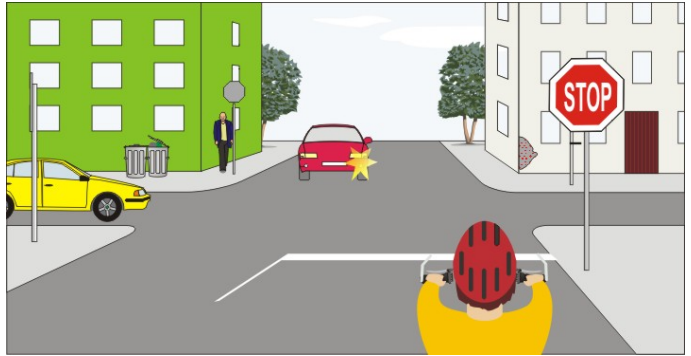
17. Cyklista:

- A) dává přednost všem vozidlům v křižovatce
- B) má přednost před žlutým vozidlem
- C) projede křižovatkou jako poslední




18. Vozidla projedou křižovatkou v pořadí:

- A) 1. cyklista, 2. červené, 3. žluté
- B) 1. žluté, 2. červené, 3. cyklista
- C) 1. žluté, 2. cyklista, 3. červené



19. Cyklista:

- A) nesmí vjíždět do křižovatky
- B) může projet křižovatku současně se žlutým vozidlem
- C) může projet křižovatku současně se zeleným vozidlem



20. Na této křižovatce:

- A) má přednost v jízdě cyklista
- B) není přednost v jízdě upravena
- C) má přednost v jízdě modré vozidlo

