

## TEST č. 15      Označ všechny správné odpovědi na zadané otázky

### 1. Znamení o změně směru jízdy řidič dává

- A) vždy při změně směru jízdy
  - B) včas před započítáním jízdního úkonu
  - C) jestliže to vyžaduje bezpečnost provozu na pozemních komunikacích.
- 

### 2. Pokud cyklista vede jízdní kolo a nemůže užít chodník

- A) musí jít po levém okraji vozovky nebo po levé krajnici
  - B) musí užít pravé krajnice nebo pravého okraje vozovky
  - C) užívá levou nebo pravou stranu vozovky
- 

### 3. Otáčet a couvat řidič nesmí

- A) na přejezdu pro cyklisty
  - B) na nepřehledných nebo jinak nebezpečných místech
  - C) na křižovatce s řízeným provozem a v její těsné blízkosti
- 

### 4. „Nesmět omezit“ znamená

- A) povinnost počínat si tak, aby jinému účastníku provozu na pozemních komunikacích nebylo nijak překáženo
  - B) pouze dbát zvýšené opatrnosti
  - C) jezdit jen v pravém jízdním pruhu
- 

### 5. Vést za jízdy druhé jízdní kolo

- A) může cyklista po rovné silnici
  - B) cyklista nesmí
  - C) může jen zkušený cyklista
- 

### 6. Povrchu a stavu vozovky

- A) cyklista přizpůsobí rychlost
  - B) cyklista nemusí přizpůsobit způsob jízdy
  - C) cyklista přizpůsobí způsob jízdy
- 

### 7. Volné konce trubky řídítek

- A) musí být spolehlivě zaslepeny, např. rukojeťmi
- B) musí být spolehlivě zaslepeny, např. zátkami
- C) nesmí být zaslepeny

**8. Tento pokyn policisty znamená**

- A) „Pozor!“ pro všechny řidiče
- B) „Volno“ pro řidiče přijíždějící k pravému boku policisty
- C) „Volno“ pro řidiče přijíždějící k levému boku policisty

**9. Řidič je upozorněn na častý výskyt divoké zvěře**

- A) ano
- B) ne
- C) nevím

**10. Dopravní značka vyjadřuje**

- A) zákaz vjezdu všech vozidel
- B) zákaz vjezdu potahových vozidel
- C) zákaz vstupu chodců

**11. Dopravní značka označuje**

- A) zákaz přejíždění vozovky
- B) přejezd pro cyklisty
- C) přednost cyklistů

**12. Tato dodatková tabulka**

- A) vyznačuje skutečný tvar křižovatky
- B) upřesňuje, která pozemní komunikace je hlavní a která vedlejší
- C) označuje křižovatku nerozlišenou dopravními značkami

**13. Která dopravní značka vyjadřuje zákaz vstupu chodců?**

A



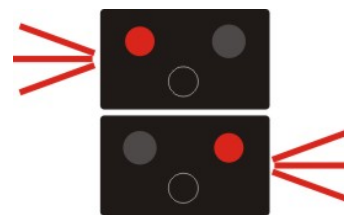
B




C

**14. Signál střídavě přerušovaných červených světel přejezdového zařízení znamená**

- A) že řidič může přejíždět železniční přejezd, pokud ještě nejede vlak
- B) že řidič musí při jízdě dbát zvýšené opatrnosti
- C) že řidič nesmí vjíždět na železniční přejezd

**15. Cyklista projede křižovatkou:**


- A) poslední
- B) jako první současně se zeleným vozidlem
- C) současně s modrým vozidlem

**16. Cyklista:**

- A) má přednost před modrým vozidlem
- B) dává přednost modrému vozidlu
- C) má přednost před žlutým vozidlem

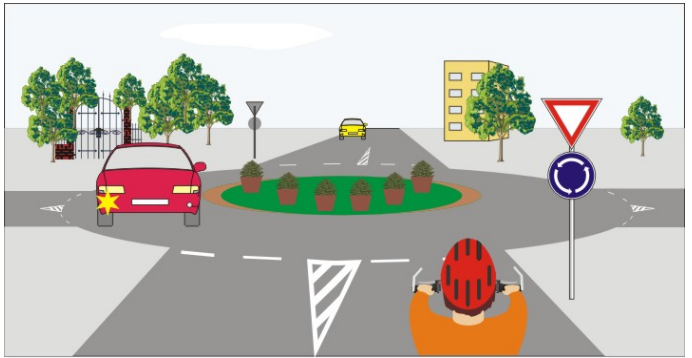
**17. Cyklista a červené vozidlo:**

- A) nemohou projet současně
- B) projedou současně a vyhnou se vlevo
- C) projedou současně a vyhnou se vpravo




**18. Cyklista:**

- A) může vjet na kruhový objezd
- B) musí dát přednost červenému vozidlu
- C) musí dát přednost žlutému vozidlu

**19. Cyklista z výhledu:**

- A) dává přednost tramvaji
- B) dává přednost zelenému vozidlu
- C) dává přednost cyklistovi

**20. Vozidla projedou křižovatkou v pořadí:**

- A) 1. modré, 2. cyklista, 3. žluté
- B) 1. všechna současně
- C) 1. žluté, 2. cyklista a modré současně

