

TEST č. 30 Označ všechny správné odpovědi na zadané otázky

1. Řidič nesmí

- A) ohrozit nebo omezit chodce, který přechází pozemní komunikaci po přechodu pro chodce
 - B) ohrozit chodce, který možná bude chtít přecházet po přechodu pro chodce
 - C) ohrozit chodce, který zjevně hodlá přecházet pozemní komunikaci po přechodu pro chodce
-

2. Nemohou-li se řidiči bezpečně vyhnout

- A) musí dát přednost v jízdě ten, na jehož straně jízdy je překážka
 - B) musí dát přednost v jízdě ten, na jehož straně jízdy je zúžená vozovka
 - C) má přednost v jízdě větší vozidlo
-

3. „Zastavit“ znamená

- A) uvést vozidlo do klidu na dobu kratší než 3 minuty
 - B) uvést vozidlo do klidu na dobu nezbytně nutnou k neprodlenému nastoupení nebo vystoupení přepravovaných osob
 - C) uvést vozidlo do klidu na dobu nezbytně nutnou k neprodlenému naložení nebo složení nákladu
-

4. Za jízdy se cyklista

- A) nesmí držet jiného vozidla
 - B) může držet jiného vozidla, pokud mu to dovolí řidič tohoto vozidla
 - C) může držet jiného vozidla jen při jízdě do kopce
-

5. Sklápějí-li se, jsou-li sklopeny nebo zdvihají-li se závory

- A) může řidič vjet na železniční přejezd, pokud to ještě stihne
 - B) může řidič vjet na železniční přejezd, pokud se závory zdvihají
 - C) řidič nesmí vjíždět na železniční přejezd
-

6. Správně se rozhodne řidič

- A) rychlý a zbrklý
 - B) soustředěný na jízdu
 - C) spěchající a nepozorný
-

7. Pro jízdu za snížené viditelnosti musí být jízdní kolo vybaveno

- A) zadní svítilnou vyzařující světlo červené barvy
- B) zadní svítilnou vyzařující světlo oranžové barvy
- C) světlometem svítícím dopředu modrým světlem



8. Tento pokyn policisty znamená „Volno“ pro řidiče

- A) přijíždějící směrem k pravému boku policisty
- B) přijíždějící směrem k čelu nebo zádům policisty
- C) přijíždějící směrem k levému boku policisty

9. Rychlost při projíždění zatáčky je doporučena

- A) ne
- B) ano
- C) nevím



10. Dopravní značka

- A) označuje silnici I. třídy
- B) zakazuje vjezd vozidlům vyznačených druhů
- C) informuje o uspořádání vyhrazených jízdních pruhů



11. Dopravní značka označuje

- A) hlavní pozemní komunikaci
- B) konec hlavní pozemní komunikace
- C) konec více zákazů



12. Dopravní značka „Vodící čára“

- A) vyznačuje jízdní pruh
- B) vyznačuje okraj vozovky
- C) upozorňuje na nebezpečnou zatáčku



13. Která dopravní značka označuje stezku pro cyklisty?



A



B



C

14. Rozsvícený světelný signál znamená

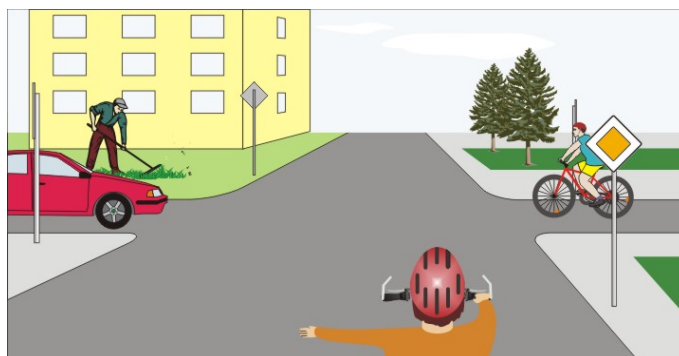
- A) povinnost řidiče zastavit vozidlo před signalizačním zařízením
- B) povinnost řidiče zastavit ve vzdálenosti 10 m před signalizačním zařízením
- C) povinnost řidiče zastavit vozidlo co nejdál o signalizačního zařízení

**15. Na této křižovatce:**

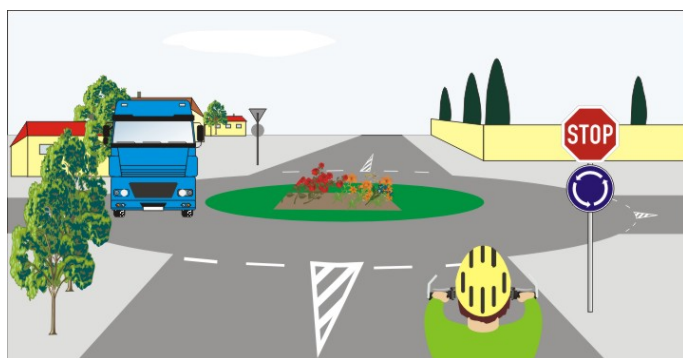
- A) je přednost v jízdě upravena dopravními značkami
- B) jako poslední projede červené vozidlo
- C) cyklista a žluté nákladní vozidlo projedou současně

**16. Cyklista z výhledu:**

- A) má přednost před cyklistou přijíždějícím zprava
- B) má přednost před červeným vozidlem
- C) projede křižovatku jako první

**17. Cyklista:**

- A) dává přednost modrému vozidlu
- B) má přednost modrým vozidlem
- C) nedává znamení o změně směru jízdy




18. Cyklista:

- A) má přednost v jízdě
- B) má povinnost zastavit vozidlo
- C) se připraví k jízdě

**19. Vozidla projedou křižovatkou:**

- A) 1. cyklista, 2. zelené a tramvaj současně
- B) 1. všechna současně
- C) 1. tramvaj a cyklista, 2. zelené

**20. Na tento pokyn policisty:**

- A) projede křižovatkou cyklista
- B) projede křižovatkou žluté vozidlo
- C) projede křižovatkou zelené vozidlo

