

TEST č. 23 Označ všechny správné odpovědi na zadané otázky

1. Řidič odbočující vlevo

- A) musí dát přednost v jízdě protijedoucím motorovým vozidlům
 - B) musí dát přednost v jízdě protijedoucím nemotorovým vozidlům
 - C) musí dát přednost v jízdě protijedoucím jezcům na zvířeti
-

2. Znamení o změně směru jízdy paží se dává

- A) po celou dobu objíždění nebo předjíždění
 - B) jen před započítím jízdního úkonu
 - C) podle okolností
-

3. „Řidič“

- A) je účastník silničního provozu, který řídí motorové vozidlo
 - B) je účastník silničního provozu, který řídí nemotorové vozidlo
 - C) je účastník silničního provozu, který řídí tramvaj
-

4. Cyklisté

- A) smějí jet ve skupinách
 - B) smějí jet nejvýše dva vedle sebe
 - C) smějí jet jen jednotlivě za sebou
-

5. Otáčet a couvat řidič nesmí

- A) na přechodu pro chodce
 - B) v nepřehledné zatáčce a v její těsné blízkosti
 - C) na parkovišti
-

6. K zásadám bezpečné jízdy patří

- A) předvídavost
 - B) neústupnost
 - C) pozornost
-

7. Volné konce trubky řídítek

- A) musí být spolehlivě zaslepeny, např. zátkami,
- B) nesmí být zaslepeny
- C) musí být spolehlivě zaslepeny, např. rukojeťmi

8. Tento pokyn policisty znamená „Pozor!“

- A) pouze pro řidiče přijíždějící k čelu policisty
- B) pro všechny řidiče
- C) pouze pro řidiče přijíždějící k pravému boku policisty

**9. Před touto dopravní značkou musí řidič vždy zastavit vozidlo**

- A) ano
- B) ne
- C) nevím

**10. Tato dopravní značka označuje**

- A) stezku pro cyklisty
- B) oblast, kde platí také zvláštní pravidla pro provoz v cyklistické zóně
- C) zónu s omezením pro cyklisty

**11. Dopravní značka**

- A) omezuje rychlost jízdy
- B) upozorňuje na místo, kde se na vozovce vyskytuje volný štěrk
- C) upozorňuje na padající kamení

**12. Dopravní značka upozorňuje**

- A) na místo vyžadující zvýšenou opatrnost
- B) na zákaz stání
- C) na zákaz zastavení

**13. Která dopravní značka označuje silnici pro motorová vozidla?**

A



B



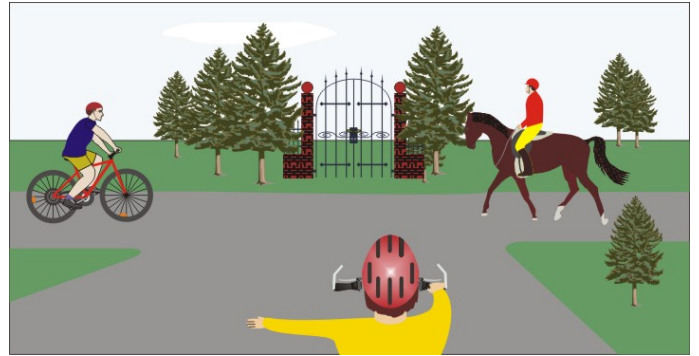
C

14. Rozsvícený světelný signál znamená

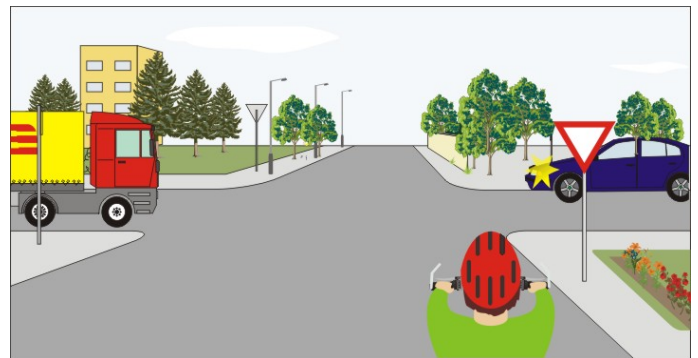
- A) povinnost řidiče zastavit ve vzdálenosti 5 m před signalizačním zařízením
 B) povinnost řidiče zastavit vozidlo před signalizačním zařízením
 C) povinnost řidiče zastavit za signalizačním zařízením

**15. Cyklista z výhledu:**


- A) dává přednost cyklistovi přijíždějícímu zleva
 B) dává přednost jezdcí na zvířeti
 C) projede křižovatkou jako druhý

**16. Vozidla projedou v pořadí:**

- A) 1. cyklista, 2. modré, 3. nákladní
 B) 1. modré, 2. nákladní, 3. cyklista
 C) 1. nákladní, 2. modré, 3. cyklista


**17. Cyklista:**

- A) dává přednost tramvaji
 B) má přednost před tramvají a zeleným vozidlem
 C) projede křižovatkou jako první




18. Cyklista z výhledu:

- A) projede křižovatkou jako první současně s autobusem
- B) dává přednost v jízdě cyklistovi přijíždějícímu zprava
- C) projede křižovatkou jako poslední

**19. Cyklista:**

- A) smí vjet na kruhový objezd
- B) nemusí dát přednost všem vozidlům na kruhovém objezdu
- C) nedává znamení o změně směru jízdy

**20. Na této křižovatce:**

- A) cyklista dává přednost modrému vozidlu
- B) cyklista smí odbočit vpravo
- C) cyklista smí pokračovat pouze v přímém směru

