

TEST č. 17 Označ všechny správné odpovědi na zadané otázky

1. „Účastník provozu na pozemních komunikacích“

- A) je pouze řidič a chodec
 - B) je každý, kdo se přímým způsobem účastní silničního provozu
 - C) není jezdec na zvířeti
-

2. Nemohou-li se řidiči bezpečně vyhnout

- A) musí dát přednost v jízdě ten, na jehož straně jízdy je překážka
 - B) musí dát přednost v jízdě ten, na jehož straně jízdy je zúžená vozovka
 - C) má přednost v jízdě větší vozidlo
-

3. Na příkaz dopravní značky „Stůj, dej přednost v jízdě!“

- A) nesmí řidič zastavit vozidlo za dopravní značkou
 - B) musí řidič zastavit vozidlo, to neplatí, když po hlavní pozemní komunikaci nepřijíždí jiné vozidlo
 - C) musí řidič zastavit vozidlo na takovém místě, odkud má do křižovatky náležitý rozhled
-

4. Užit pruh pro chodce na stezce pro chodce a cyklisty s oddělenými pruhy

- A) může cyklista při objíždění, přitom nesmí ohrozit chodce
 - B) může cyklista při předjíždění, přitom nesmí ohrozit chodce
 - C) může cyklista při otáčení, přitom nesmí ohrozit chodce
-

5. Sklápějí-li se, jsou-li sklopeny nebo zdvihají-li se závory

- A) může řidič vjet na železniční přejezd, pokud to ještě stihne
 - B) může řidič vjet na železniční přejezd, pokud se závory zdvihají
 - C) řidič nesmí vjíždět na železniční přejezd
-

6. Mezi zásady bezpečné jízdy patří

- A) jízda podle pravidel silničního provozu
 - B) rychlá jízda a přejíždění z pruhu do pruhu
 - C) pomalá jízda bez dodržování některých pravidel
-

7. Nahradit světlomet na jízdním kole svítilnou bílé barvy s přerušovaným světlem

- A) může cyklista vždy
- B) cyklista nesmí
- C) může cyklista jen na dostatečně souvisle osvětlené vozovce

8. Na tento pokyn policisty řidič musí

- A) opustit křižovatku
- B) zpomalit jízdu
- C) zrychlit jízdu

**9. Nápis na vozovce upozorňuje na blížící se přechod pro chodce**

- A) ano
- B) ne
- C) nevím

**10. Dopravní značka znamená**

- A) přednost před protijedoucími vozidly
- B) jednosměrný provoz
- C) přednost protijedoucích vozidel

**11. Dopravní značka informuje**

- A) o nebezpečném místě na pozemní komunikaci
- B) o nejbližším místě lékařské první pomoci
- C) o křížení turistických cest

**12. Dopravní značka označuje**

- A) křižovatku, kde není přednost v jízdě upravena dopravními značkami
- B) křižovatku, kde se uplatní přednost v jízdě vozidel přijíždějících zprava
- C) křižovatku účelových komunikací

**13. Která dopravní značka označuje prostor pro cyklisty čekající na signál „Volno“?**

A



B



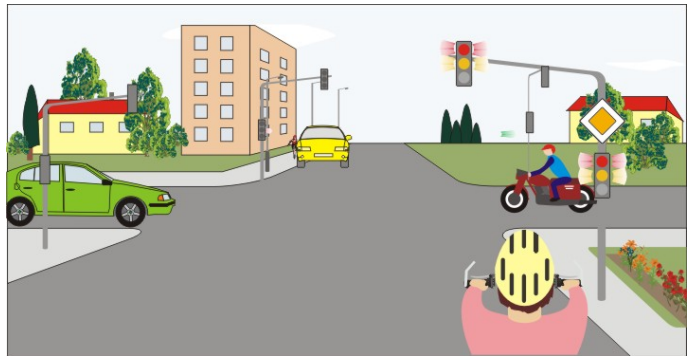
C

14. Takto rozsvícený světelný signál znamená

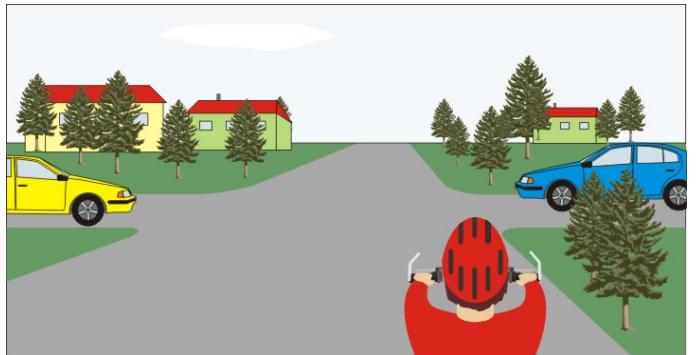
- A) povinnost zastavit vozidlo; pokud by řidič nemohl vozidlo bezpečně zastavit, smí pokračovat v jízdě
 B) volno
 C) připravit se k jízdě

**15. Cyklista:**


- A) musí zastavit vozidlo
 B) se připraví k jízdě
 C) smí ještě projet křižovatkou

**16. Vozidla projedou v pořadí:**

- A) 1. modré, 2. cyklista, 3. žluté
 B) 1. žluté a modré současně, 2. cyklista
 C) 1. cyklista, 2. žluté, 3. modré

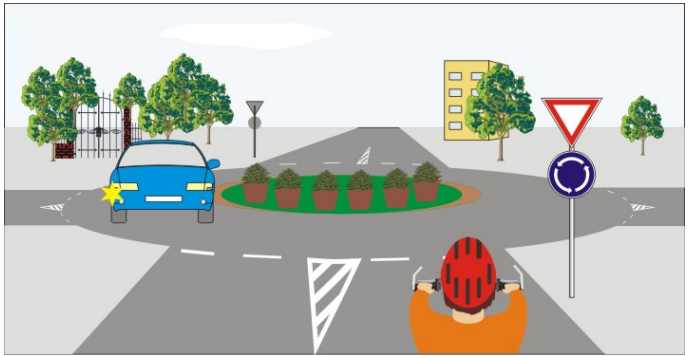
**17. Cyklista:**

- A) přijíždí po hlavní pozemní komunikaci
 B) přijíždí po vedlejší pozemní komunikaci
 C) projede křižovatkou jako druhý současně s červeným vozidlem

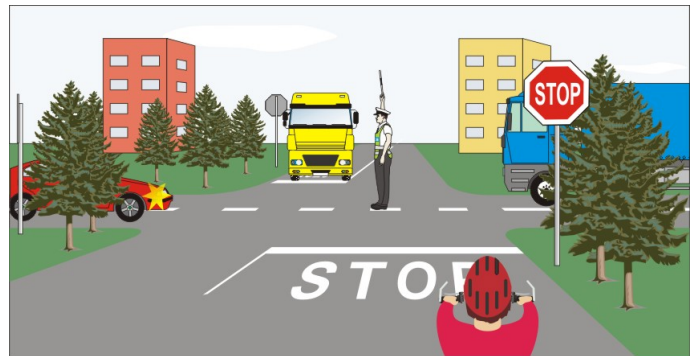


18. Cyklista:

- A) nesmí vjet na kruhový objezd
- B) smí vjet na kruhový objezd, protože modré vozidlo z objezdu vyjíždí
- C) nedává znamení o změně směru jízdy

**19. Pokyn policisty znamená:**

- A) „Pozor!“ pro všechny řidiče
- B) že modré nákladní vozidlo může projet křižovatkou
- C) že červené osobní vozidlo může odbočit

**20. Cyklista:**

- A) dává přednost modrému vozidlu
- B) má přednost před modrým vozidlem
- C) projede křižovatkou jako první současně s červeným vozidlem

